

Контролно по Дискретни Структури

17/01/2018 г.

\mathbb{N} е множеството на естествените числа, включително 0.

Наредени двойки бележим с ългови скоби, напр. $\langle a, b \rangle$.

Зад. 1. Нека A, B, C и D са произволни множества. Докажете, че:

1а) $(A \cap B) \cup C = (A \cup C) \cap (B \cup C)$

1б) $(A \setminus C) \times (B \setminus D) \subseteq (A \times B) \setminus (C \times D)$

2а) $(A \cup B) \cap C = (A \cap C) \cup (B \cap C)$

2б) $(A \times B) \cap (C \times D) = (A \cap C) \times (B \cap D)$

Д-во

1а)

1. Ще докажем, че $(A \cap B) \cup C \subseteq (A \cup C) \cap (B \cup C)$. Нека $x \in (A \cap B) \cup C$.

1.1. $x \in (A \cap B)$. Следователно, $x \in A$ и $x \in B$. Значи $x \in (A \cup C)$ и $x \in (B \cup C)$. Оттук $x \in (A \cup C) \cap (B \cup C)$.

1.2. $x \in C$. Следователно, $x \in (A \cup C)$ и $x \in (B \cup C)$. Оттук $x \in (A \cup C) \cap (B \cup C)$.

2. Ще покажем, че $(A \cup C) \cap (B \cup C) \subseteq (A \cap B) \cup C$. Нека $x \in (A \cup C) \cap (B \cup C)$. Следователно $x \in (A \cup C)$ и $x \in (B \cup C)$.

2.1. $x \in C$. Тогава $x \in (A \cap B) \cup C$.

2.2. $x \notin C$. Значи от $x \in (A \cup C)$ следва, че $x \in A$. От $x \in (B \cup C)$ следва, че $x \in B$. Оттук $x \in (A \cap B)$ и значи $x \in (A \cap B) \cup C$. \square

1б)

Нека $x \in (A \setminus C) \times (B \setminus D)$. Ще докажем, че $x \in (A \times B) \setminus (C \times D)$. От условието за x , че $x \in (A \setminus C) \times (B \setminus D)$, следва че x е наредена двойка, $x = \langle y, z \rangle$, където $y \in (A \setminus C)$ и $z \in (B \setminus D)$. Следователно, $y \in A$, $y \notin C$, $z \in B$, $z \notin D$. Значи $x = \langle y, z \rangle \in (A \times B)$ и също така $x = \langle y, z \rangle \notin (C \times D)$. Следователно $x \in (A \times B) \setminus (C \times D)$. \square

2а)

1. Ще покажем, че $(A \cup B) \cap C \subseteq (A \cap C) \cup (B \cap C)$. Нека $x \in (A \cup B) \cap C$. Следователно, $x \in (A \cup B)$ и $x \in C$.

1.1. $x \in A$. Следователно $x \in (A \cap C)$ и оттук $x \in (A \cap C) \cup (B \cap C)$.

1.2. $x \in B$. Следователно $x \in (B \cap C)$ и оттук $x \in (A \cap C) \cup (B \cap C)$.

2. Ще покажем, че $(A \cap C) \cup (B \cap C) \subseteq (A \cup B) \cap C$. Нека $x \in (A \cap C) \cup (B \cap C)$.

2.1. $x \in (A \cap C)$. Следователно, $x \in C$ и $x \in A$. Оттук, $x \in (A \cup B)$. Следва, че $x \in (A \cup B) \cap C$.

2.2. $x \in (B \cap C)$. Следователно, $x \in C$ и $x \in B$. Оттук, $x \in (A \cup B)$. Следва, че $x \in (A \cup B) \cap C$. \square

2б)

1. Ще докажем, че $(A \times B) \cap (C \times D) \subseteq (A \cap C) \times (B \cap D)$. Нека $x \in (A \times B) \cap (C \times D)$. Това значи, че $x \in (A \times B)$ и $x \in (C \times D)$. Следователно, x е наредена двойка, $x = \langle y, z \rangle$, така че $y \in A$, $z \in B$, $y \in C$ и $z \in D$. Оттук следва, че $y \in (A \cap C)$ и $z \in (B \cap D)$. Стигаме до извода, че $x = \langle y, z \rangle \in (A \cap C) \times (B \cap D)$.

2. Ще докажем, че $(A \cap C) \times (B \cap D) \subseteq (A \times B) \cap (C \times D)$. Нека $x \in (A \cap C) \times (B \cap D)$. Следователно, x е наредена двойка, $x = \langle y, z \rangle$, така че $y \in (A \cap C)$ и $z \in (B \cap D)$. От предните следва, че $y \in A$, $y \in C$, $z \in B$ и $z \in D$. Значи $x = \langle y, z \rangle \in (A \times B)$ и $x = \langle y, z \rangle \in (C \times D)$. Оттук $x \in (A \times B) \cap (C \times D)$. \square

Зад. 2. Нека $A = \mathbb{N}$, а $R \subseteq A \times A$ е бинарна релация над A . Нека за всяко $x \in A$ и за всяко $y \in A$:

Вариант 1:

$$(x R y) \Leftrightarrow (x.y) + x \text{ е четно}$$

Вариант 2:

$$(x R y) \Leftrightarrow (x.y) + y \text{ е четно}$$

Докажете, че:

а) R е рефлексивна.

б) R е транзитивна.

в) R **не** е релация на еквивалентност.

Упътване: $(x R y)$ означава $\langle x, y \rangle \in R$. За вариант 1, използвайте, че $(x.y) + x = x.(y + 1)$. За вариант 2, използвайте, че $(x.y) + y = (x + 1).y$. За в) е достатъчно да покажете контрапример.

Д-во

а) Условието R да е рефлексивна (спрямо A) е следното: $(\forall x \in A)(x R x)$.

За да докажем това условие, нека x да е произволен елемент на A (нямаме право да го избираме, трябва да предвидим всички възможности за x).

И така нека $x \in A = \mathbb{N}$. Тогава x е четно число или $x + 1$ е четно число (0 дава остатък 0 при деление на 2 и е четно число). И в двата случая $x.(x + 1)$ е четно и следователно $(x R x)$. \square

б) Условието R да е транзитивна е следното:

$$\forall x \forall y \forall z ((x R y) \& (y R z) \rightarrow (x R z)).$$

И така, нека x, y, z са три произволни елемента (това означава, че нямаме право да ги избираме, а трябва да разгледаме за тях всички възможни случаи). Трябва да докажем, че $(x R y) \& (y R z) \rightarrow (x R z)$. За да докажем импликацията, трябва да приемем за вярна лявата ѝ страна и да докажем дясната.

Нека $(x R y) \& (y R z)$. Защото $R \subseteq A \times A$, можем да считаме, че $x, y, z \in A = \mathbb{N}$. Ще докажем, че $(x R z)$.

Вариант 1:

$(y+1).x$ е четно и $(z+1).y$ е четно. Трябва да докажем, че $(z+1).x$ е четно.

1 сл. x е четно $\Rightarrow (z+1).x$ е четно.

2 сл. $y+1$ е четно $\Rightarrow y$ е нечетно $\Rightarrow (z+1)$ е четно $\Rightarrow (z+1).x$ е четно.

Вариант 2:

$(x+1).y$ е четно и $(y+1).z$ е четно. Трябва да докажем, че $(x+1).z$ е четно.

1 сл. $(x+1)$ е четно $\Rightarrow (x+1).z$ е четно.

2 сл. y е четно $\Rightarrow y+1$ е нечетно $\Rightarrow z$ е четно $\Rightarrow (x+1).z$ е четно. \square

в) За да бъде R релация на еквивалентност, трябва тя да е рефлексивна, транзитивна и симетрична. Ще докажем, че R не е симетрична:

Нека $a = 1, b = 2$.

$(a+1).b = 2.2 = 4$, но $(b+1).a = 3.1 = 3$.

За Вариант 1: R не е симетрична, защото $(b R a)$, но $\neg(a R b)$.

За Вариант 2: R не е симетрична, защото $(a R b)$, но $\neg(b R a)$ \square

Обяснения към по-горните разсъждения:

Условието R да е симетрична е следното:

$\forall x \forall y ((x R y) \rightarrow (y R x))$.

За да го опровергаем, трябва да докажем, че:

$\neg \forall x \forall y ((x R y) \rightarrow (y R x)) \equiv$

$\exists x \neg \forall y ((x R y) \rightarrow (y R x)) \equiv$

$\exists x \exists y \neg ((x R y) \rightarrow (y R x)) \equiv$

$\exists x \exists y \neg (\neg(x R y) \vee (y R x)) \equiv$

$\exists x \exists y (\neg \neg(x R y) \wedge \neg(y R x)) \equiv$

$\exists x \exists y ((x R y) \wedge \neg(y R x))$

Това значи, че е достатъчно да намерим елементи c и d , такива че $\langle c, d \rangle \in R$ и $\langle d, c \rangle \notin R$.

За упражнение, проверете, че ако искаме да докажем, че R не е транзитивна, то трябваше да докажем следното:

$\exists x \exists y \exists z ((x R y) \wedge (y R z) \wedge \neg(x R z))$.

Тоест, да намерим поне три елемента (не непременно различни) p, q, r , такива че $\langle p, q \rangle \in R, \langle q, r \rangle \in R$ и $\langle p, r \rangle \notin R$.

Обърнете внимание, че когато доказваме съществуването на нещо, директното намиране на някакъв пример не винаги е възможно. Тогава могат да се използват други похвати, напр. принципа на Дирихле (който доказва, че

съществува някакъв елемент с някакво свойство, но не казва кой е той), допускане на обратното и стигане до противоречие и др.

Зад. 3. Намерете броя на решенията на уравнението:

Вариант 1) $x_1 + x_2 + x_3 = 1234$, където $x_2 \geq 7$,

$x_1 \in \mathbb{N}$, $x_2 \in \mathbb{N}$ и $x_3 \in \mathbb{N}$.

Упътване:

$$A = \{(x_1, x_2, x_3) \in \mathbb{N}^3 \mid x_1 + x_2 + x_3 = 1234 \ \& \ x_2 \geq 7\}, |A| = ?$$

Вариант 2) $x_1 + x_2 + x_3 = 1000$, където $x_1 \geq 8$,

$x_1 \in \mathbb{N}$, $x_2 \in \mathbb{N}$ и $x_3 \in \mathbb{N}$.

Упътване:

$$A = \{(x_1, x_2, x_3) \in \mathbb{N}^3 \mid x_1 + x_2 + x_3 = 1000 \ \& \ x_1 \geq 8\}, |A| = ?$$

Решение

За Вариант 1:

Полагаме $x_2 = x'_2 + 7$, сега вече търсим бр. на реш. на у-то $x_1 + x'_2 + x_3 = 1234 - 7 = 1227$

Това е като да намерим броя на мултимножествата с 1227 елемента, състоящи се от елементите на множеството $\{x_1, x_2, x_3\}$, което е точно

$$\binom{1227+(3-1)}{(3-1)} = \binom{1229}{2} = \frac{1229 \cdot 1228}{2} = 614 \cdot 1229 = 754 \ 606$$

За верен отговор се счита всяко едно от по-горните 5 преставяния.

За Вариант 2:

Полагаме $x_1 = x'_1 + 8$, сега вече търсим бр. на реш. на у-то $x'_1 + x_2 + x_3 = 1000 - 8 = 992$

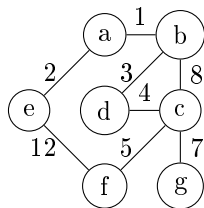
Това е като да намерим броя на мултимножествата с 992 елемента, състоящи се от елементите на множеството $\{x_1, x_2, x_3\}$, което е точно

$$\binom{992+(3-1)}{(3-1)} = \binom{994}{2} = \frac{994 \cdot 993}{2} = 497 \cdot 993 = 493 \ 521$$

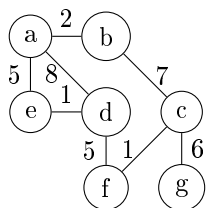
За верен отговор се счита всяко едно от по-горните 5 преставяния. □

Зад. 4. Даден е следният претеглен неориентиран граф:

Вариант 1:



Вариант 2:



а) Намерете минимално покриващо дърво за този граф. Използвайте алгоритъма на Прим или алгоритъма на Крускал.

б) Намерете дължините на минималните пътища от връх а до всички останали върхове в графа, използвайки алгоритъма на Дейкстра.

Решение

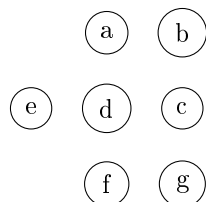
а). Ще ползваме алгоритъма на Kruskal. Първо, подреждаме по тежест ребрата, започвайки от най-лекото:

За Вариант 1:

$\langle \{a, b\}, \{a, e\}, \{b, d\}, \{c, d\}, \{c, f\}, \{c, g\}, \{b, c\}, \{e, f\} \rangle$

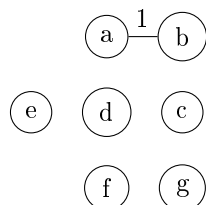
Няма значение в какъв ред ще подредим ребрата с еднаква тежест (дължина).

Построяваме 7 дървета без ребра:

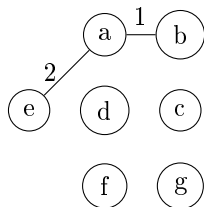


Последователно добавяме ребрата, които свързват различни дървета (гледано в момента преди тяхното добавяне).

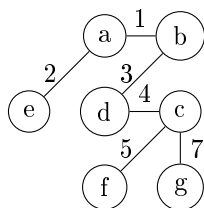
$\{a, b\}$ свързва различни дървета:



$\{a, e\}$ свързва различни дървета:



И т.н. добавяме ребрата: $\{b, d\}$, $\{c, d\}$, $\{c, f\}$, $\{c, g\}$.



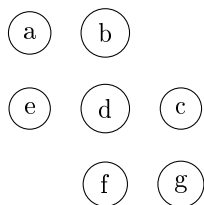
Изпускаме реброто $\{b, c\}$, защото свързва върхове в едно и също дърво, а също така и реброто $\{e, f\}$.

Остава дървото на картинката по-горе.

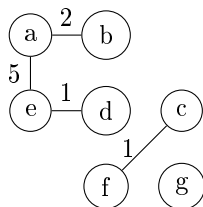
За Вариант 2: $\langle \{e, d\}, \{c, f\}, \{a, b\}, \{a, e\}, \{d, f\}, \{c, g\}, \{b, c\}, \{a, d\} \rangle$

Няма значение в какъв ред ще подредим ребрата с еднаква тежест (дължина).

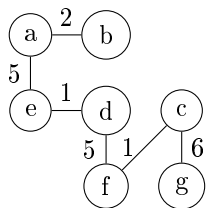
Построяваме 7 дървета без ребра:



Последователно добавяме ребрата $\{e, d\}$, $\{c, f\}$, $\{a, b\}$, $\{a, e\}$.



След това добавяме последователно $\{d, f\}$ и $\{c, g\}$



Накрая изпускаме ребрата $\{b, c\}$ и $\{a, d\}$, защото свързват ребра в едно и също дърво.

Остава картинката по-горе. □

б) Dijkstra

Понеже не искаме пътищата, а само дължината им, се интересуваме само от масива $dist$. Приемаме, че $a = 0, b = 1, c = 2, d = 3, e = 4, f = 5, g = 6$.

Построяваме масив $dist$ с големина 7:

$$dist = [\infty, \infty, \infty, \infty, \infty, \infty, \infty]$$

И после на позиция a слагаме 0.

$$dist = [0, \infty, \infty, \infty, \infty, \infty, \infty]$$

Взимаме множество на необходимите върхове, $Q = \{a, b, c, d, e, f, g\}$

За Вариант 1:

1. Итерация 1:

Избираме връх от Q с минимално $dist$, $u = a$.

$$Q = Q \setminus \{a\}.$$

$$Q = \{b, c, d, e, f, g\}$$

Итерируем съседите на u , които са още в Q .

$$1.1. v = b, alt = dist[a] + w(\{a, b\}) = 1, 1 < dist[b]$$

Подобряваме $dist[b]$:

$$dist = [0, 1, \infty, \infty, \infty, \infty, \infty]$$

$$1.2. v = e, alt = 0 + 2, 2 < \infty$$

$$dist = [0, 1, \infty, \infty, 2, \infty, \infty]$$

2. Итерация 2:

Избираме връх от Q с минимално $dist$, $u = b$.

$$Q = \{c, d, e, f, g\}$$

Итерируем съседите на b , които са в Q :

$$2.1. v = d, alt = 1 + 3 = 4, 4 < \infty.$$

$$dist = [0, 1, \infty, 4, 2, \infty, \infty].$$

$$2.2. v = c, alt = 1 + 8 = 9, 9 < \infty.$$

$$dist = [0, 1, 9, 4, 2, \infty, \infty].$$

3. Итерация 3:

Избираме връх от Q с минимално $dist$, $u = e$.

$$Q = \{c, d, f, g\}$$

Итерираме съседите на e , които са в Q :

$$3.1. v = f, alt = 2 + 12 = 14, 14 < \infty.$$

$$dist = [0, 1, 9, 4, 2, 14, \infty].$$

4. Итерация 4:

Избираме връх от Q с минимално $dist$, $u = d$.

$$Q = \{c, f, g\}$$

Итерираме съседите на d , които са в Q :

$$4.1. v = c, alt = 4 + 4 = 8, 8 < 14.$$

$$dist = [0, 1, 8, 4, 2, 14, \infty].$$

5. Итерация 5:

Избираме връх от Q с минимално $dist$, $u = c$.

$$Q = \{f, g\}$$

Итерираме съседите на c , които са в Q :

$$5.1. v = f, alt = 8 + 5 = 13, 13 < 14.$$

$$dist = [0, 1, 8, 4, 2, 13, \infty].$$

$$5.2. v = g, alt = 8 + 7 = 15, 15 < \infty.$$

$$dist = [0, 1, 8, 4, 2, 13, 15].$$

6. Итерация 6:

Избираме връх от Q с минимално $dist$, $u = f$.

$$Q = \{g\}$$

Няма съседни на f , които да са в Q .

7. Итерация 7:

Избираме връх от Q с минимално $dist$, $u = g$.

$$Q = \emptyset$$

Няма съседни на g , които да са в Q .

Край, отговор:

$$dist = [0, 1, 8, 4, 2, 13, 15].$$

□

За Вариант 2:

1. Итерация 1:

Избираме връх от Q с минимално $dist$, $u = .$

$$Q = \{b, c, d, e, f, g\}$$

Итериране съседите на a , които са в Q (без значение в какъв ред):

$$1.1. v = b, alt = 0 + 2 = 2, 2 < \infty.$$

$$dist = [0, 2, \infty, \infty, \infty, \infty, \infty].$$

$$1.2. v = e, alt = 0 + 5 = 5, 5 < \infty.$$

$$dist = [0, 2, \infty, \infty, 5, \infty, \infty].$$

$$1.3. v = d, alt = 0 + 8 = 8, 8 < \infty.$$

$$dist = [0, 2, \infty, 8, 5, \infty, \infty].$$

2. Итерация 2:

Избираме връх от Q с минимално $dist$, $u = b$.

$$Q = \{c, d, e, f, g\}$$

Итериране съседите на b , които са в Q :

$$2.1. v = c, alt = 2 + 7 = 9, 9 < \infty.$$

$$dist = [0, 2, 9, 8, 5, \infty, \infty].$$

3. Итерация 3:

Избираме връх от Q с минимално $dist$, $u = e$.

$$Q = \{c, d, f, g\}$$

Итериране съседите на e , които са в Q :

$$3.1. v = d, alt = 5 + 1 = 6, 6 < 8.$$

$$dist = [0, 2, 9, 6, 5, \infty, \infty].$$

4. Итерация 4:

Избираме връх от Q с минимално $dist$, $u = d$.

$$Q = \{c, f, g\}$$

Итериране съседите на d , които са в Q :

$$4.1. v = f, alt = 6 + 5 = 11, 11 < \infty.$$

$$dist = [0, 2, 9, 6, 5, 11, \infty].$$

5. Итерация 5:

Избираме връх от Q с минимално $dist$, $u = c$.

$$Q = \{f, g\}$$

Итериране съседите на c , които са в Q :

5.1. $v = f$, $alt = 9 + 1 = 10$, $10 < 11$.

$dist = [0, 2, 9, 6, 5, 10, \infty]$.

5.2. $v = g$, $alt = 9 + 6 = 15$, $15 < \infty$.

$dist = [0, 2, 9, 6, 5, 10, 15]$.

6. Итерация 6:

Избираме връх от Q с минимално $dist$, $u = f$.

$Q = \{g\}$

f няма съседни в Q .

7. Итерация 7:

Избираме връх от Q с минимално $dist$, $u = g$.

$Q = \emptyset$

g няма съседни в Q .

Край, резултат:

$dist = [0, 2, 9, 6, 5, 10, 15]$.

□