



СОФИЙСКИ УНИВЕРСИТЕТ „СВ. КЛИМЕНТ ОХРИДСКИ“

ПИСМЕН КОНКУРСЕН ИЗПИТ ПО МАТЕМАТИКА I

22 април 2018 г.

Тема №3.

Отговорите на задачите от 1. до 20. включително отбелязвайте в листа за отговори!

Задача 1. Стойността на израза $\frac{\sqrt{5} + 3\sqrt{3}}{\sqrt{5} - \sqrt{3}}$ е от интервала:

- А) $(-\infty, 12]$ Б) $(12, 14]$ В) $(14, 15]$ Г) $(15, 16]$

Задача 2. Стойността на израза $\frac{p^4 - q^4}{(p+q)^2 - 2pq} (p-q)^{-1}$ при $p = 1,59$ и $q = 2,41$ е равна на:

- А) $\frac{3}{4}$ Б) 4 В) $\frac{13}{3}$ Г) 8

Задача 3. Допустимите стойности на израза $\frac{y^2 - 3}{\sqrt{2 - |y + 1|}}$ са:

- А) $y \in (-3, 1)$ Б) $y \in (-\sqrt{3}, \sqrt{3})$ В) $y \in (-1; 3)$ Г) $y \in (0, 2)$

Задача 4. Броят на целите решения на неравенството $x^2 - 4x \leq \frac{x+5}{2}$ е равен на :

- А) 3 Б) 4 В) 5 Г) 6

Задача 5. Стойността на израза $\frac{\log_3 12}{\log_{36} 3} - \frac{1 + \log_3 36}{\log_4 3}$ е равна на:

- А) -2 Б) 1 В) 2 Г) 3

Задача 6. Броят на корените на уравнението $(|2x - 5| + 7)\sqrt{4x^2 + 9x + 3} = 0$ е равен на:

- А) 1 Б) 2 В) 3 Г) 4

Задача 7. Ако x_1 и x_2 са корените на уравнението $1 - 4x + 3x^2 = 0$, то стойността на израза $A = x_1^3 + x_2^3$ е равна на :

- А) $\frac{28}{27}$ Б) 24 В) $\frac{27}{28}$ Г) $\frac{26}{27}$

Задача 8. Стойността на израза $\sin^2 \varphi - 2 \cos \left(\varphi - \frac{3\pi}{2} \right) + \cos^2(\pi - \varphi)$ при $\varphi = \frac{\pi}{6}$ е равна на:

- А) -3 Б) -2 В) 1 Г) 2

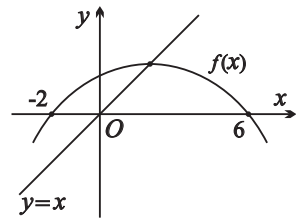
Задача 9. Върху страните AC и BC на $\triangle ABC$ са взети съответно точките M и N , така че $AM : AC = BN : BC = 2 : 3$. Ако S е лицето на $\triangle MNC$, а T е лицето на четириъгълника $ABNM$, то отношението $S : T$ е равно на:

- А) 2 : 3 Б) 1 : 4 В) 1 : 8 Г) 4 : 9

Задача 10. В триъгълник ABC , $\sphericalangle BAC = 90^\circ$ и BL е ъглополовяща на $\sphericalangle ABC$ ($L \in AC$). Ако $BC = 4\sqrt{3}$ и $AC = 6$, то дължината на BL е равна на:

- А) 3 Б) 4 В) $5\sqrt{3}$ Г) 6

Задача 11. На чертежа са изобразени графиката на квадратната функция $f(x) = ax^2 + bx + c$ и на правата с уравнение $y = x$, като правата пресича графиката на f във върха на параболата. Коэффициентът a е равен на:



- А) $-\frac{1}{8}$ Б) -2 В) -3 Г) -8

Задача 12. Членовете в редицата a_1, a_2, a_3, \dots са определени по правилото:

$$a_1 = 2018, \quad a_{n+1} = \begin{cases} \frac{a_n}{5}, & \text{ако } a_n \text{ се дели на } 5, \\ a_n - 2, & \text{ако } a_n \text{ не се дели на } 5, \end{cases} \quad n = 1, 2, \dots$$

Последният положителен член в редицата е:

- А) a_8 Б) a_{10} В) a_{12} Г) a_{13}

Задача 13. За растящата аритметична прогресия a_1, a_2, \dots, a_n е известно, че $a_1 + a_5 = 24$ и $a_1 a_5 = 128$. Разликата на прогресията е равна на:

- А) 2 Б) 3 В) 4 Г) 5

Задача 14. Ако $\operatorname{tg}(\alpha - 45^\circ) = \frac{1}{2}$, то $\sin 2\alpha$ е равно на:

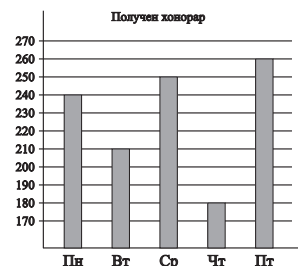
- А) $\frac{2}{3}$ Б) $\frac{3}{5}$ В) $\frac{3}{2}$ Г) $\frac{5}{3}$

Задача 15. В кутия има бели и черни топки. Осем от черните топки са преобоядисани в бяло и върнати в кутията, при което вероятността да бъде изтеглена бяла топка се е увеличила 3 пъти, а вероятността да бъде изтеглена черна топка е намалела 5 пъти. Общият брой на топките в кутията е равен на:

- А) 14 Б) 18 В) 25 Г) 32

Задача 16. През седмицата програмист работил по задачи за различни фирми. На диаграмата са дадени получените от него хоно-рари в лева. Договореното заплащане на час за дните от понедел-ник до петък е било съответно 60 лв., 70 лв., 50 лв., 45 лв., 65 лв. Средното заплащане за час на програмиста за тази седмица е било:

- А) 53 лв. Б) 56 лв. В) 57 лв. Г) 59 лв.



Задача 17. В $\triangle ABC$ е дадено $AB = 6$, $\sphericalangle ACB = 30^\circ$ и $\sphericalangle ABC = 105^\circ$. Лицето на $\triangle ABC$ е равно на:

- А) $3(2 + \sqrt{3})$ Б) $9(3 + \sqrt{2})$ В) $6(3 - \sqrt{2})$ Г) $9(1 + \sqrt{3})$

Задача 18. В $\triangle ABC$ е дадено $AB = 10$, $BC = 14$ и $\sphericalangle BAC = 60^\circ$. Дължината на височината през върха C в $\triangle ABC$ е равна на:

- А) 7 Б) $6\sqrt{3}$ В) $8\sqrt{3}$ Г) 13

Задача 19. Даден е трапец, с дължини на основите 12 и 8. Около трапеца може да се опише окръжност и в трапеца може да се впише окръжност. Диаметърът на описаната около трапеца окръжност е равен на:

- А) $9\sqrt{6}$ Б) $\frac{35}{\sqrt{6}}$ В) 10 Г) $\frac{20}{\sqrt{3}}$

Задача 20. Диагоналите на изпъкнал четириъгълник $ABCD$ са $AC = 10$ и $BD = 8$. Нека точките M, N, P и Q са съответно средите на страните AB, CD, BC и AD . Ако $MN = PQ$, то лицето на четириъгълника $ABCD$ е:

- А) 24 Б) 32 В) 36 Г) 40

Отговорите на задачите от 21. до 25. включително запишете в листа за отговори!

Задача 21. Стойността на израза $A = \frac{9^{\frac{3}{2}} - 3 \cdot 8^{\frac{2}{3}}}{3^{\frac{1}{3}} \cdot \sqrt[3]{4 + \sqrt{7}} \cdot \sqrt[3]{4 - \sqrt{7}}}$ е равна на:

Задача 22. Решенията на уравнението $\sqrt{\frac{x}{x-1}} - 3 \cdot \sqrt{\frac{x-1}{x}} = 2$ са:

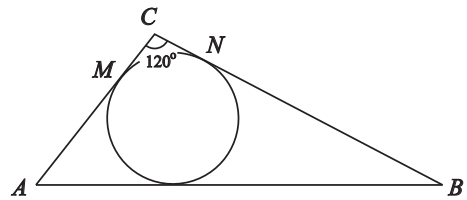
Задача 23. Разликата между сложната лихва и простата лихва, начислявани годишно върху начален капитал K лв. за период от 2 години при еднакъв годишен лихвен процент 8%, е 19,20 лв. Намерете началния капитал K .

Задача 24. Да се намерят числата x и y в растящата редица

$$25, 29, 31, 35, x, 43, 57, y,$$

така че средното аритметично да е равно на 40 и медианата да е равна на 36.

Задача 25. В $\triangle ABC$ е дадено $AB = 14$, $AC = 6$ и $\sphericalangle ACB = 120^\circ$. Вписаната в $\triangle ABC$ окръжност се допира до AC и BC в точките M и N . Лицето на $\triangle CMN$ е равно на:



Пълните решения на задачи 26., 27. и 28. запишете в свитъка за решения!

Задача 26. За геометричната прогресия a_1, a_2, a_3, a_4 е известно, че

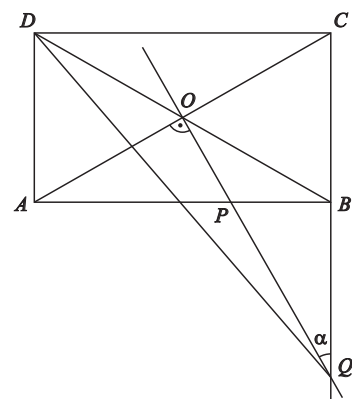
$$a_2 + a_3 = 3 \quad \text{и} \quad \frac{a_1 + a_4}{a_3 - a_1} = \frac{7}{2}.$$

Да се намерят членовете на тази прогресия.

Задача 27. а) Даден е правилен седмоъгълник. Да се намери броят на равнобедрените трапеци, върховете на които са върхове и на правилния седмоъгълник.

б) Да се намери броят на равнобедрените трапеци, върховете на които са върхове и на даден правилен 21-ъгълник.

Задача 28. Даден е правоъгълник $ABCD$. През пресечната точка O на диагоналите му е прекарана права, перпендикулярна на диагонала AC , пресичаща страната AB в точка P и продължението на страната BC в точка Q , като $OP = 3$, $OQ = 6$ и $\sphericalangle CQO = \alpha$. Намерете стойността на $\text{tg } \alpha$ и дължината на отсечката QD .



Време за работа 4 часа.

Драги кандидат-студенти,

- номерирайте всички страници на беловата си;
- означавайте ясно началото и края на решението на всяка от задачите от 26. до 28., включително;
- решението на всяка от задачите от 26. до 28., включително, трябва да започва на нова страница;
- не смесвайте белова и чернова;
- черновата не се проверява и не се оценява.

Изпитната комисия ви пожелава успешна работа!