



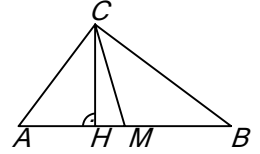
Софийски Университет „Св. Климент Охридски“
Писмен конкурсен изпит по математика
18 май 2008 г.

ЗАДАЧИ И ПРИМЕРНИ РЕШЕНИЯ – ТЕМА 2

Задача 1. Петият и деветнадесетият член на аритметична прогресия са съответно равни на 9 и 37. Да се намери сборът на първите 29 члена.

Решение: Нека a_1 и d са първият член и разликата на прогресията. От $a_5 = a_1 + 4d = 9$ и $a_{19} = a_1 + 18d = 37$ намираме $a_1 = 1$ и $d = 2$. Тогава $S_{29} = \frac{2a_1 + 28d}{2} \cdot 29 = 841$

Задача 2. Даден е правоъгълен триъгълник ABC ($\sphericalangle ACB = 90^\circ$) с медиана $CM = \frac{5}{2}$ и височина $CH = \frac{12}{5}$. Да се намерят дължините на катетите на триъгълника.



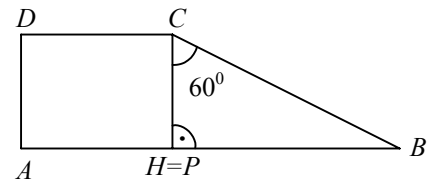
Решение: Тъй като $AB = 2CM = 5$, то $S_{ABC} = \frac{1}{2} AB \cdot CH = 6$. От друга страна, $AC \cdot BC = 2S_{ABC} = 12$ и $AC^2 + BC^2 = AB^2 = 25$. Оттук намираме $AC = 3$, $BC = 4$ или $AC = 4$, $BC = 3$.

Задача 3. Да се реши уравнението $(2^{4x^2-1} - 5)^2 = 9$.

Решение: Уравнението е еквивалентно на $2^{4x^2-1} = 8$ или $2^{4x^2-1} = 2$. Оттук $4x^2 - 1 = 3$ или $4x^2 - 1 = 1$. Следователно корените на уравнението са, $x_{1,2} = \pm 1$; $x_{3,4} = \pm \frac{\sqrt{2}}{2}$.

Задача 4. Даден е трапец $ABCD$ ($AB \parallel CD$, $AB > CD$) с лице 6, бедра $AD = 2$, $BC = 4$ и ъгъл между бедрата 60° . Да се намерят основите на трапеца.

Решение: Нека $AB = a$, $CD = b$ и $CP \parallel AD$. Тогава $CP = AD$, $\sphericalangle BCP = 60^\circ$ и $PB = a - b$. От $\triangle BCP$ намираме $PB^2 = PC^2 + BC^2 - 2PC \cdot BC \cos 60^\circ = 3$, т.е. $a - b = 2\sqrt{3}$ (1). Ако $CH \perp AB$, за $\triangle BCP$ имаме $2S_{BCP} = CH \cdot PB = CP \cdot BC \sin 60^\circ = 4\sqrt{3}$, откъдето $CH = 2$. От $S_{ABCD} = \frac{a+b}{2} \cdot 2 = 6$ получаваме $a + b = 6$ (2). От (1) и (2): $a = 3 + \sqrt{3}$, $b = 3 - \sqrt{3}$.



Задача 5. Да се реши неравенството $\log_3 \frac{x-1}{x-3} - 2 \log_3 \frac{1-x}{x-5} < 0$.

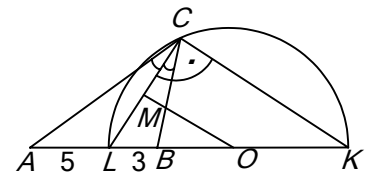
Решение: Множеството от допустимите стойности е $(3; 5)$. Даденото неравенство е еквивалентно на $\frac{3x-11}{(x-1)(x-3)} > 0 \Leftrightarrow (x-1)(x-3)(3x-11) > 0$, откъдето $x \in (1; 3) \cup (\frac{11}{3}; +\infty)$. Като вземем предвид множеството от допустимите стойности, намираме, че $x \in (\frac{11}{3}; 5)$.

Задача 6. В триъгълника ABC вътрешната ъглополовяща през върха C пресича страната AB в точка L . Ако $AL = 5$ и $BL = 3$, да се намери радиусът на окръжността, минаваща през точките C и L , с център върху правата AB .

Решение: Нека O и R са центърът и радиусът на k . Тъй като CL е хорда в k , то $MO \perp CL$. Ако CK е външната ъглополовяща през върха C , $CK \perp CL$ и MO е средна отсечка в $\triangle CLK$. Тогава $LK = 2R$.

От свойствата на ъглополовящата имаме $\frac{KA}{KB} = \frac{LA}{LB} = \frac{AC}{BC} = \frac{5}{3}$.

Но $KA = KB + AB = KB + 8$, откъдето $KB = 12$, $LK = 15$ и $R = 7,5$.



Задача 7. Да се намерят стойностите на параметъра a , при които уравнението $\sqrt{x-3} + ax = 2a + 3$ има единствено решение.

Решение: При $x \geq 3$ полагаме $t = \sqrt{x-3} \geq 0$ и получаваме $at^2 + t + a - 3 = 0$ (1). Тогава (1) трябва да има точно един неотрицателен корен. При $a = 0$ получаваме $t = 3$. Нека $a \neq 0$. Разглеждаме дискриминантата $D = 1 - 4a^2 + 12a$. $D = 0$ за $a_{1,2} = \frac{3 \pm \sqrt{10}}{2}$. При $a = \frac{3 - \sqrt{10}}{2}$ (1) има единствен положителен корен, а при $a = \frac{3 + \sqrt{10}}{2}$ – единствен отрицателен корен. Нека $\frac{3 - \sqrt{10}}{2} < a < \frac{3 + \sqrt{10}}{2}$ и $a \neq 0$. Уравнението

(1) ще има един положителен и един отрицателен корен, когато $a(a-3) < 0$, т.е. $0 < a < 3$, а при $a=3$ корените са $t_1=0$ и $t_2=-3$. Окончателно решенията на задачата са $a \in \left\{ \frac{3-\sqrt{10}}{2} \right\} \cup [0;3]$

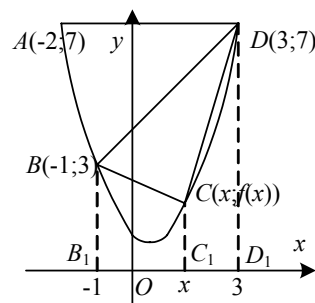
Задача 8. Спрямо правоъгълна координатна система Oxy са дадени точките $A(-2;7)$, $B(-1;3)$ и $D(3;7)$. Върховете на четириъгълника $ABCD$ с диагонали AC и BD лежат върху графиката на функцията $f(x) = ax^2 + bx + c$. Да се намерят координатите на върха C , при които лицето на $ABCD$ е най-голямо, и да се пресметне това лице.

Решение: Тъй като A, B и D лежат върху графиката на функцията $f(x)$, то: $f(-2) = 7$; $f(-1) = 3$; $f(3) = 7$, откъдето: $a = 1, b = -1, c = 1$.

Следователно $f(x) = x^2 - x + 1$. Ако $B_1(-1;0), D_1(3;0)$ и $C_1(x;0)$ са проекциите на B, C, D върху Ox , то $x \in (-1;3)$, защото AC и BD са диагонали. Понеже $S_{ABD} = 10$, лицето на $ABCD$ е най-голямо, когато $S_{BCD} = S(x)$ е най-голямо.

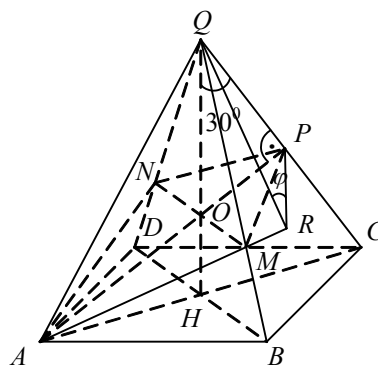
Но $S(x) = S_{BB_1D_1D} - S_{BB_1C_1C} - S_{CC_1D_1D} = \frac{1}{2}(40 - (3 + f(x))(x+1) - (7 + f(x))(3-x)) = -2x^2 + 4x + 6$. Тъй като $S(x)$ има локален максимум при $x_0 = 1$ в интервала $(-1;3)$, то $\max S(x) = S(1) = 8$.

Следователно за точката $C_0(1,1)$ S_{ABCD} е най-голямо и $S_{ABC_0D} = S_{ABD} + S_{BC_0D} = 10 + 8 = 18$.



Задача 9. Дадена е правилна четириъгълна пирамида $QABCD$ с връх Q . Ъгълът между околния ръб CQ и равнината BDQ е 30° . През върха A е построена равнина α , перпендикулярна на ръба CQ . Да се намери тангенсът на ъгъла между равнината α и равнината QAB .

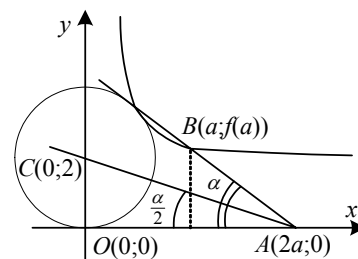
Решение: Нека $\alpha \cap CQ = P$, $\alpha \cap BQ = M$, $\alpha \cap DQ = N$ и $AC \cap BD = H$. Тъй като пирамидата е правилна, то $QH \perp (ABCD)$ и $CH \perp (BDQ)$. Тогава QH е ортогоналната проекция на QC в равнината (BDQ) и $\sphericalangle [CQ, (BDQ)] = \sphericalangle CQH = 30^\circ$. Но $\triangle CQA$ е равнобедрен, $QH \perp AC$, така че $\sphericalangle CQA = 60^\circ$, т.е. $AQ = CQ = AC = 2a$. Понеже $QC \perp MN$, то $MN \parallel BD$. Също така, от $AP \perp BD$ следва, че $MN \perp AP$. Тъй като $\alpha \cap (ABQ) = AM$, ако $PR \perp AM$, то $\sphericalangle [\alpha, (ABQ)] = \sphericalangle PRQ = \varphi$. Тогава $\operatorname{tg} \varphi = \frac{PQ}{PR}$. От $AP \perp QC$ следва, че $PQ = a$ и $AP = a\sqrt{3}$. Ако $AP \cap HQ = O$, то $MN \cap HQ = O$. Тъй като $\frac{QO}{QH} = \frac{AO}{AP} = \frac{2}{3}$, то $MN = \frac{2}{3}BD = \frac{2}{3}AC$. Тогава $\triangle AMN$ е равностранен и $\sphericalangle OAM = \sphericalangle PAR = 30^\circ$. От $\triangle APR$ намираме $PR = \frac{1}{2}AP = \frac{a\sqrt{3}}{2}$. Следователно $\operatorname{tg} \varphi = \frac{PQ}{PR} = \frac{2}{\sqrt{3}}$.



Задача 10. Дадена е функцията $f(x) = \frac{2x^2}{x^2-1}, x > 1$. Нека спрямо правоъгълна координатна система Oxy точка A има координати $(2a;0)$, където a е реален параметър, а точка B лежи на графиката на $f(x)$ и е такава, че $\triangle OAB$ е равнобедрен ($OB = AB$). Да се докаже, че съществува единствена окръжност k , която се допира до оста Ox в точка O и до всички прави AB . Да се намери радиусът на тази окръжност.

Решение: Понеже $\triangle OAB$ е равнобедрен, то $B(a; f(a))$ и $a > 1$. Ако C е центърът на k , то C е пресечната точка на ъглополовящата на $\sphericalangle OAB = \alpha$ и оста Oy . Тогава радиусът на k е $R = OC$ и от $\triangle OAC$ имаме $\frac{R}{2a} = \frac{OC}{OA} = \operatorname{tg} \frac{\alpha}{2}$. От $\triangle OAB$ намираме $\operatorname{tg} \alpha = \frac{f(a)}{a} = \frac{2a}{a^2-1}$. Оттук

$\operatorname{tg} \frac{\alpha}{2} = \frac{1}{a}$ или $\operatorname{tg} \frac{\alpha}{2} = -a$. Но $\frac{\alpha}{2} < 90^\circ$, така че $\frac{R}{2a} = \frac{1}{a}$, т.е. $R = 2$.



Пълното решение на всяка задача се оценява с 4 точки. Оценката се получава по формулата $2 + 0,1N$, където N е броят на получените точки.